

2017

1. 政府總部某間食堂的營運商決定售賣壽司而不再售賣漢堡包，因為前者能賺獲更高利潤。這是以_____去解決_____的問題的一個例子。
 - A. 政府指令 「生產什麼」
 - B. 政府指令 「為誰生產」
 - C. 市場機制 「生產什麼」
 - D. 市場機制 「為誰生產」

2. 下列哪項有關利息的陳述是正確的？
 - A. 沒有貨幣，利息不會存在。
 - B. 沒有通脹，利息不會存在。
 - C. 沒有稀少性，利息不會存在。
 - D. 利息是對借款人延遲消費的補償。

3. 共用品
 - A. 是一種邊際生產成本為零的物品。
 - B. 只可以由政府提供。
 - C. 不能以私有產權保護。
 - D. 容許多人同時使用。

4. 對某經濟而言，下列哪（幾）項屬延遲建成一條新鐵路的損失？
 - (1) 該新鐵路原本在延遲期間能為乘客節省的交通時間
 - (2) 因新鐵路延遲對承建商公司形象所造成的損害
 - (3) 對新鐵路附近的商店及居民在延遲期間所造成的滋擾

A. 只有(1) B. 只有(2) C. 只有(3) D. (1), (2) 及 (3)

5. 亞倫和他的合夥人將他們的合夥轉成私人有限公司。在轉變後，
 - A. 該廠商會有更多資本作發展之用。
 - B. 該廠商的平均生產成本會較低。
 - C. 該廠商會享有較低的利得稅率。
 - D. 該廠商會擁有獨立法人地位。

6. 政府為 65 歲或以上的香港居民推出銀色債券。債券持有人會獲發利息，利率和本港通脹掛鉤，但年利率不會少於 2%。債券持有人可在到期前將其債券以原價賣給政府。

下列哪（幾）項有關銀色債券的陳述是正確的？

- (1) 持有銀色債券的風險較持有上市公司股票的風險低。
- (2) 在通脹時銀色債券的回報會上升，而上市公司股票的回報則不會。

(3) 銀色債券持有人收取的利息較上市公司股東收取的股息為高。

- A. 只有(1)
- B. 只有(2)
- C. 只有(3)
- D. (1)、(2)及(3)

7. 某些中國的餐廳發現能運用機械人代替部份工人接待顧客而不會令產出下降。這會
- A. 增加餐廳工人的供應量。
 - B. 增加這些餐廳的勞工生產力。
 - C. 減低餐廳工人的地域流動性。
 - D. 減低餐廳工人的職業流動性。

8. 下表顯示某受價者的成本與產出的關係

| 產出(單位) | 平均成本(\$) |
|--------|----------|
| 5 | 10 |
| 6 | 11 |
| 7 | 12 |
| 8 | 13 |
| 9 | 14 |

市場價格是\$20。假設每單位產出的平均成本上升\$2。該廠商的利潤會_____。

- A. 增加 \$16
- B. 增加 \$14
- C. 減少 \$16
- D. 減少 \$14

9. 佐丹奴國際有限公司是一間便服零售商。它開設了佐丹奴女裝 Giordano Ladies，提供高級女士服裝。這是_____擴張的一個例子。
- A. 橫向
 - B. 縱向
 - C. 側向
 - D. 集團

10. 一間藝術中心延長其營業時間一小時以開辦更多油畫班。下列各項中，哪些屬額外營運一小時所涉及的可變成本？

- (1) 會計員的薪金
 - (2) 電費
 - (3) 顏料費用
 - (4) 租金支出
- A. 只有(1)、(4)
 - B. 只有(2)、(3)
 - C. 只有(1)、(2)及(4)
 - D. (1)、(2)、(3)及(4)

11. 某廠商的投入與產出的關係如下：

| | 第一年 | 第二年 |
|-------------|-------|-------|
| 工人數量 | 30 | 35 |
| 每日每名工人的工作時數 | 10 | 8 |
| 產出數量（單位） | 3 000 | 2 900 |

根據上述資料，勞力供應會_____而平均勞工生產力會_____。

- A. 增加.....增加
 - B. 增加.....減少
 - C. 減少.....增加
 - D. 減少.....減少
12. 著名藝人子華舉辦了一場表演，很多人抱怨未能購得門票。門票黃牛黨在互聯網上轉售這些門票，有買家付出高於港幣 \$10 000 購入一張門票。

上述個案說明了價格的_____功能，因為_____。

- A. 配給 票配給予最高價值的買家
 - B. 配給 價格愈高，需求便會下降
 - C. 分配 價格愈高，利潤便會增加
 - D. 分配 更多的資源應該分配予生產商以增加供應
13. 下列哪項與需求定律**並**不相符？
- A. 取消對成衣的從量進口關稅令進口成衣的質素上升。
 - B. 與距離養魚場較遠的市場售出的冰鮮魚比較，在養魚場附近市場售出的活魚價格較高。
 - C. 當政府對白酒開徵從價稅，高檔白酒售出量相對於白酒總售出量的比率維持不變。
 - D. 發展商傾向在一幅擁有良好景觀的地皮上興建較優質的住宅。
14. 下列哪種情況最有可能導致蘋果公司生產的 iphone 的需求上升？
- A. 電池業技術突破令其生產成本下降。
 - B. 人們預期下一款的 iphone 會有更多創新的特點。
 - C. 三星公司的一款智能手機被很多航空公司禁止攜帶登機。
 - D. 蘋果公司下調 iphone 的售價。

15. 參看文迪和莎莉的對話。

| |
|---|
| 文迪：我酷愛咖啡！不論其價格如何轉變，每週我總是購買相同數量的咖啡。 莎莉：我也酷愛咖啡！不論其價格如何轉變，每週總是花費相同金額購買咖啡。 |
|---|

根據他們的對話，文迪對咖啡的需求屬_____而莎莉對咖啡的需求屬_____。

- A. 完全沒有彈性 完全沒有彈性
- B. 完全沒有彈性 單一彈性
- C. 單一彈性 完全沒有彈性
- D. 單一彈性 單一彈性

16. 參看下列物品 X 的供應表。

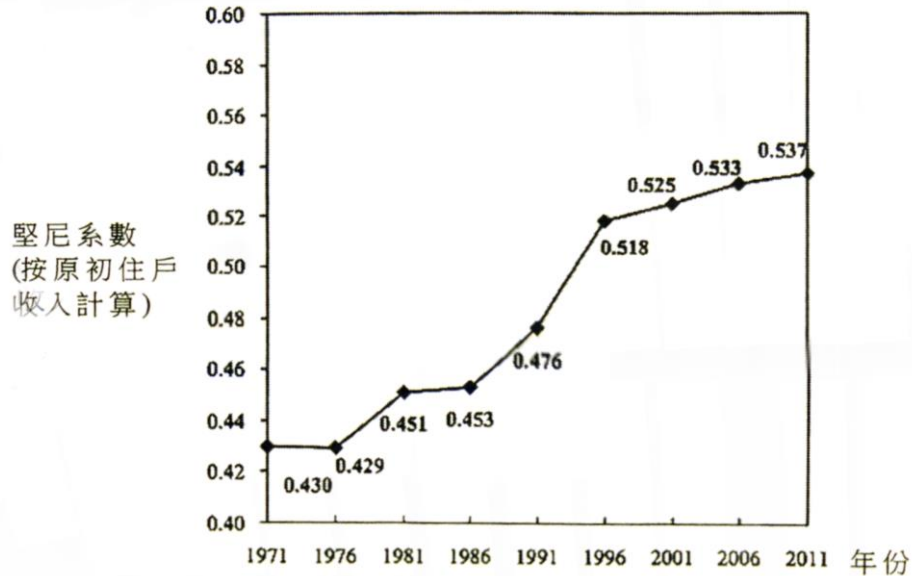
| | | | | | | | | |
|-----------|-----|-----|-----|-----|-----|-----|-----|-----|
| 單位價格 (\$) | 6 | 7 | 8 | 9 | 10 | 11 | 12 | 13 |
| 需求量 | 140 | 130 | 120 | 110 | 100 | 90 | 80 | 70 |
| 供應量 | 60 | 70 | 80 | 90 | 100 | 110 | 120 | 130 |

若政府對物品 X 開徵\$2 從量稅，

- A. 賣家的除稅後收入會是\$990。
 - B. 賣家承擔的稅項負擔是\$90。
 - C. 總稅項收入會是\$200。
 - D. 買家對物品 X 的總支出會下降\$40。
- 17 假設物品 Y 是劣等物品，當人們的收入增加而物品 Y 的生產成本上升，物品 Y 的均衡價格_____。
- A. 會上升
 - B. 會下降
 - C. 會維持不變
 - D. 可能上升或下降
- 18 假設政府對住宅單位實施有效租金管制。下列哪項出現的可能性**最低**？
- A. 住宅單位會出現短缺。
 - B. 黑市會出現。
 - C. 窮人能夠較容易租得住宅單位。
 - D. 業主會有較低意欲翻新其住宅單位作出租之用。
- 19 下列哪些有關壟斷性競爭的陳述是正確的？
- (1) 市場內可以有少量或大量買家和賣家。
 - (2) 賣家屬尋價者。
 - (3) 賣家所提供的物品及服務屬同質的。
 - (4) 該市場是自由進入和退出的。
- A. 只有(1)、(2) B. 只有(1)、(4) C. 只有(2)、(3) D. 只有(2)、(4)
- 20 李嘉誠基金向每位居住在那些平均住戶收入較低之偏遠地區的 2017 年香港 中學文憑考試考生派發港幣 5 000 元。下列哪項有關該無條件餽贈的陳述是正確的？
- A. 這減低了收入不均，因為收到該餽贈的人大部份來自低收入組別。
 - B. 這增加了收入不均，因為對居住在非偏遠地區的考生並不公平。

- C. 因為該款項是給予哪些居住在偏遠地區的所有考生，所以收入分配維持不變。
- D. 這有助機會均等化，因為那些考生會更用功讀書以提高其考試成績。

21 下圖顯示香港的堅尼系數（按原初住戶收入計算）：



根據上圖，我們可以得出的結論是：

- A. 香港人的收入水平上升。
- B. 高收入住戶的收入增加而低收入住戶的收入減少。
- C. 福利政策未能減低收入不均。
- D. 收入差距日漸擴大。
22. 『鼓勵就業交通津貼計劃』協助低收入在職人士減低往返工作地點的交通費負擔，並鼓勵他們就業。工人只要符合指定條件，例如每月收入限額及資產限額，便有資格獲得津貼。

在上述計劃推行後，下列哪些會可能出現？

- (1) 勞力供應會增加
- (2) 勞工生產力會增加
- (3) 勞工的地域流動性會增加
- (4) 收入不均會下降

- A. 只有(1)、(2)

B. 只有(3)、(4)

C. 只有(1)、(3)及(4)

D. 只有(2)、(3)及(4)

23. 若政府提高對物品 X 的有效價格下限 同時其替代品的價格上升了 在物品 X 市場的消費者盈餘_。

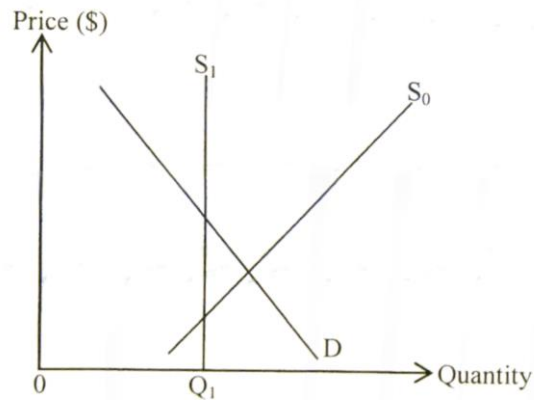
A. 會增加

B. 會減少

C. 會維持不變

D. 可能增加或減少

24. 參閱以下某物品的供需圖，當中 Q_1 為政府設下的配額。



下列哪些會是空減少該物品配額的結果？

(1) 對該物品的總支出可能增加。

(2) 消費者盈餘會減少。

(3) 總社會盈餘可能增加。

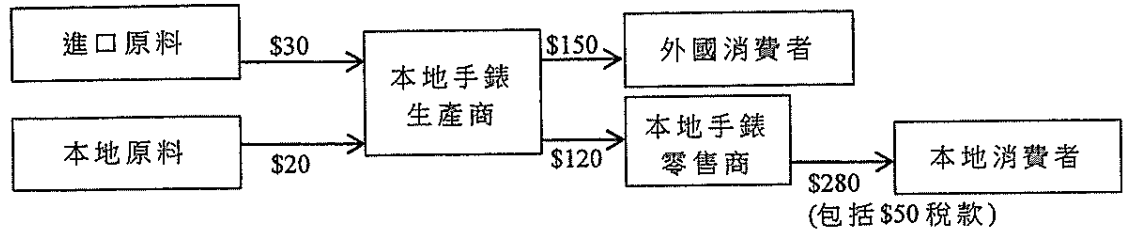
A. 只有(1)、(2)

B. 只有(1)、(3)

C. 只有(2)、(3)

D. (1)、(2)及(3)

25. 下圖顯示某經濟中手錶的生產鏈。



對該經濟以市價計算的本地生產總值而言，本地手錶生產商的貢獻是_____。

- A. \$220
- B. \$240
- C. \$350
- D. \$400

26. 下表顯示某經濟的一些數據。

| | 增長率 | |
|--------|------|------|
| | 2015 | 2016 |
| 本地生產總值 | -3% | -2% |
| 價格水平 | 1% | 0% |
| 人口 | 4% | 2% |

下列哪項有關該經濟的陳述是正確的？

- A. 2016年的實質本地生產總值下降。
- B. 2016年的人均本地生產總值上升。
- C. 2016年的價格水平下降。
- D. 2016年的實質本地生產總值增長率較2015年的為低。

27

政府推出『輸入中國籍香港永久性居民第二代計劃』以應付人口老化及勞動人口下降的挑戰。

若一些香港永久性居民的第二代回流香港填補了一些長期無人問津的職位，香港的勞動人口會_____而失業率會_____。

- A. 上升..... 維持不變
- B. 上升..... 下跌
- C. 下降..... 維持不變
- D. 下降..... 下跌